



تاریخ: ۱۴۰۴/۰۲/۲۸

شماره:

تعداد سوال: ۲۸

طراح: معلمان سوم

مدیریت آموزش و پرورش شهرستان بابل

نام و نام خانوادگی: نام درس: مطالعات اجتماعی آمادگی و دبستان غیردولتی هوشمند دخترانه مهرگان

پایه: سوم «مدرسه ایده آل، نسل باشکوه می سازد.»

پایه: سوم

الف) درست یا نادرست بودن جمله های زیر را مشخص کنید.

- ۱- با تولد فرزندان و بزرگ شدن آن ها ، خانواده به وجود می آید. درست نادرست
- ۲- استعدادها و توانایی های ما باعث می شود بعضی از کارها را بهتر انجام دهیم. درست نادرست
- ۳- یکی از راه های اطلاع رسانی در فضای مجازی ، رایانامه است. درست نادرست
- ۴- در مناطق پر باران سقف خانه هارا به شکل گنبدی می سازند. درست نادرست

ب) گزینه ی درست را انتخاب کنید.

۵- رشد کردن چه تغییراتی در انسان به وجود می آورد؟

- (۱) تغییرات بدن (۲) تغییر نیازها (۳) تغییر توانایی ها (۴) هر سه گزینه
- ۶- پدر و مادر چگونه صاحب نوه می شوند؟
- (۱) با ازدواج فرزندان (۲) با بزرگ تر شدن فرزندان
- (۳) با ازدواج فرزندان و بچه دار شدن آن ها (۴) با تولد فرزندان
- ۷- شجره نامه چه چیزی را نشان می دهد؟
- (۱) قانون در خانواده (۲) نسبت افراد خانواده
- (۳) تعداد فرزندان خانواده (۴) ازدواج زن و مرد
- ۸- وقتی کارها بین اعضای گروه تقسیم می شود و هرکس وظیفه ی خود را انجام می دهد؛ به این کار چه می گویند؟
- (۱) مقررات (۲) نکات ایمنی (۳) نظم (۴) همکاری
- ۹- به پولی که افراد از راه کار کردن به دست می آورند ، چه می گویند؟
- (۱) درآمد (۲) منابع (۳) پس انداز (۴) اسراف
- ۱۰- معادن در کجا قرار دارند؟
- (۱) در آسمان (۲) در زیر زمین (۳) در دل کوه ها (۴) گزینه های ۲ و ۳
- ۱۱- چه کسی برای همه ی خانه ها پلاک نصب می کند؟
- (۱) مأمور شهرداری (۲) مأمور اداره ی پست (۳) پلیس (۴) شهردار
- ۱۲- منابع طبیعی چیست؟
- (۱) آب، خاک، گیاهان و جانوران (۲) نفت و فلزات
- (۳) خانه ها و کارخانه ها (۴) گزینه ۱ و ۲
- ۱۳- شماره ی اداره ی آتش نشانی در کدام گزینه ی زیر آمده است؟
- (۱) ۱۱۰ (۲) ۱۲۵ (۳) ۱۲۳ (۴) ۱۱۵
- ۱۴- کدام یک از کارهای زیر را در مدرسه انجام نمی دهیم؟
- (۱) مطالعه و آزمایش علمی (۲) برگزاری جشن ها و نماز خواندن
- (۳) اسراف و خوابیدن (۴) برپایی نمایشگاه و ورزش

پ) جاهای خالی را کامل کنید.

۱۵- ، به ما می گوید ، چه کارهایی را باید انجام دهیم یا انجام ندهیم.

۱۶- معلّمی یک شغل و کشاورزی یک شغل است.

۱۷- به زیاده روی در مصرف منابع طبیعی ، می گویند.

۱۸- وقتی از موادی که قبلاً استفاده شده است، دوباره چیز جدیدی بسازیم ، به این کار می گویند.

۱۹- عشایر مردمی هستند که شغل آن ها است.

۲۰- کارگران اگر بیمه ی داشته باشند ، هزینه ی دارو و درمان آن ها پرداخت می شود.

۲۱- شعله ی بخاری باید رنگ باشد.

۲۲- در خیابان های بزرگ که اتومبیل ها با سرعت زیاد حرکت می کنند ، برای عبور از خیابان باید حتماً از استفاده کنیم.

ت) به سوالات زیر پاسخ دهید.

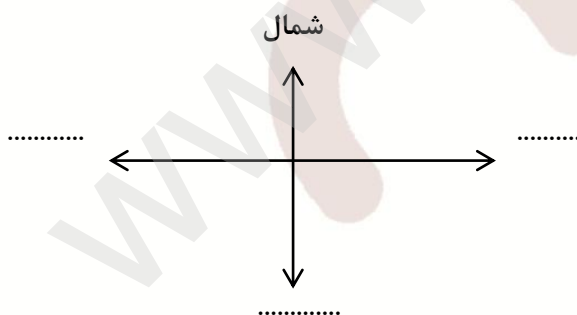
۲۳- دو کاربرد شناسنامه را بنویسید.

۲۴- ((الهی خدا دستت را بگیرد عزیزم)) یعنی چه؟

۲۵- خانواده کدام نیازهای ما را برآورده می کند؟ (۳ مورد)

۲۶- دو مقرّراتی که در مدرسه رعایت می کنید را نام ببرید.

۲۷- جهت های اصلی را بنویسید.



۲۸- نام هر تابلوی راهنمایی را زیر آن بنویسید.




.....



.....



.....



.....



تاریخ: ۱۴۰۴/۰۲/۲۸

شماره:

تعداد سوال: ۲۸

طراح: معلمان سوم

نام و نام خانوادگی: _____
مدیریت آموزش و پرورش شهرستان بابل
نام درس: مطالعات اجتماعی آمادگی و دبستان غیردولتی هوشمند دخترانه مهرگان
پایه: سوم
«مدرسه ایده آل، نسل باشکوه می سازد.»

الف) درست یا نادرست بودن جمله های زیر را مشخص کنید.

- ۱- با تولد فرزندان و بزرگ شدن آن ها ، خانواده به وجود می آید. درست نادرست
- ۲- استعدادها و توانایی های ما باعث می شود بعضی از کارها را بهتر انجام دهیم. نادرست درست
- ۳- یکی از راه های اطلاع رسانی در فضای مجازی ، رایانامه است. نادرست درست
- ۴- در مناطق پر باران سقف خانه هارا به شکل گنبدی می سازند. درست نادرست

ب) گزینه ی درست را انتخاب کنید.

- ۵- رشد کردن چه تغییراتی در انسان به وجود می آورد؟
 (۱) تغییرات بدن (۲) تغییر نیازها (۳) تغییر توانایی ها (۴) هر سه گزینه
- ۶- پدر و مادر چگونه صاحب نوه می شوند؟
 (۱) با ازدواج فرزندان (۲) با بزرگ تر شدن فرزندان (۳) با ازدواج فرزندان و بچه دار شدن آن ها (۴) با تولد فرزندان
- ۷- شجره نامه چه چیزی را نشان می دهد؟
 (۱) قانون در خانواده (۲) نسبت افراد خانواده (۳) تعداد فرزندان خانواده (۴) ازدواج زن و مرد
- ۸- وقتی کارها بین اعضای گروه تقسیم می شود و هرکس وظیفه ی خود را انجام می دهد؛ به این کار چه می گویند؟
 (۱) مقررات (۲) نکات ایمنی (۳) نظم (۴) همکاری
- ۹- به پولی که افراد از راه کار کردن به دست می آورند ، چه می گویند؟
 (۱) درآمد (۲) منابع (۳) پس انداز (۴) اسراف
- ۱۰- معادن در کجا قرار دارند؟
 (۱) در آسمان (۲) در زیر زمین (۳) در دل کوه ها (۴) گزینه های ۲ و ۳
- ۱۱- چه کسی برای همه ی خانه ها پلاک نصب می کند؟
 (۱) مأمور شهرداری (۲) مأمور اداره ی پست (۳) پلیس (۴) شهردار
- ۱۲- منابع طبیعی چیست؟
 (۱) آب، خاک، گیاهان و جانوران (۲) نفت و فلزات (۳) خانه ها و کارخانه ها (۴) گزینه ۱ و ۲
- ۱۳- شماره ی اداره ی آتش نشانی در کدام گزینه ی زیر آمده است؟
 (۱) ۱۱۰ (۲) ۱۲۵ (۳) ۱۲۳ (۴) ۱۱۵
- ۱۴- کدام یک از کارهای زیر را در مدرسه انجام نمی دهیم؟
 (۱) مطالعه و آزمایش علمی (۲) برگزاری جشن ها و نماز خواندن (۳) اسراف و خوابیدن (۴) برپایی نمایشگاه و ورزش

پ) جاهای خالی را کامل کنید.

۱۵- **مقرر است**... ، به ما می گوید ، چه کارهایی را باید انجام دهیم یا انجام ندهیم.

۱۶- معلمی یک شغل **جدید**... و کشاورزی یک شغل **پوسته**... است.

۱۷- به زیاده روی در مصرف منابع طبیعی ، **اسراف**... می گویند.

۱۸- وقتی از موادی که قبلاً استفاده شده است، دوباره چیز جدیدی بسازیم ، به این کار **بازسازی**... می گویند.

۱۹- عشایر مردمی هستند که شغل آن ها **چراغ بروری**... است.

۲۰- کارگران اگر بیمه ی **سالمندان**... داشته باشند ، هزینه ی دارو و درمان آن ها پرداخت می شود.

۲۱- شعله ی بخاری باید **آبی**... رنگ باشد.

۲۲- در خیابان های بزرگ که اتومبیل ها با سرعت زیاد حرکت می کنند ، برای عبور از خیابان باید حتماً از **پله های**... استفاده کنیم.

ت) به سوالات زیر پاسخ دهید.

۲۳- دو کاربرد شناسنامه را بنویسید. * **ثبت نام در مدرسه**

۲۴- ((الهی خدا دستت را بگیرد عزیزم)) یعنی چه؟
* **از دواج**
* **کار**
یعنی خدا در همدی کارها به شما کمک کند و همراه شما باشد و از شما مواظبت کند

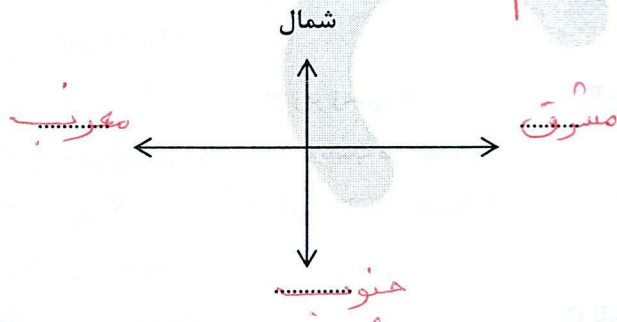
۲۵- خانواده کدام نیازهای ما را برآورده می کند؟ (۳ مورد)

مواظبت کردن - تفریح و سرگرمی - محبت و آرامش



۲۶- دو مقرراتی که در مدرسه رعایت می کنید را نام ببرید.

در حیاط و کلاس اشغال نمی نرم
هنگام خرید از بوفه صف را رعایت می کنم

۲۷- جهت های اصلی را بنویسید.



۲۸- نام هر تابلوی راهنمایی را زیر آن بنویسید.



خطر

پوشیدن ممنوع

عمل عبور دانش آموزان

ورود ممنوع