



مشاوره تحصیلی هیوا

تخصصی ترین سایت مشاوره کشور

مشاوره تخصصی ثبت نام مدارس ، برنامه ریزی درسی و آمادگی
برای امتحانات مدارس

برای ورود به صفحه مشاوره مدارس کلیک کنید

برای ورود به صفحه نمونه سوالات امتحانی کلیک کنید

تماس با مشاور تحصیلی مدارس

۹۰۹۹۰۷۱۷۸۹




تماس از تلفن ثابت



تلاش کردیم شما ملا خوشحال مرکز.

آزمون تشخیصی ریاضی اول دبستان




نام و نام خانوادگی :




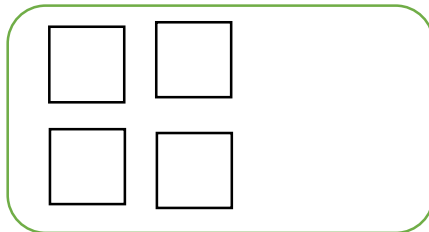

۱- با رنگ زدن یک الگوی منظم و مشخص درست کن.




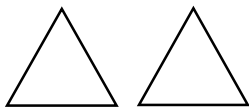
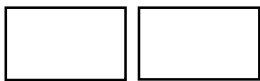
۲- به تعداد شکل های سمت چپ از شکل های سمت راست رنگ کن.





۳- دو تا شکل به هر دسته اضافه کن.



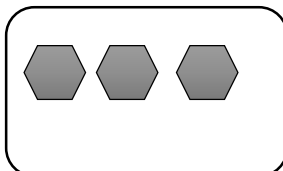
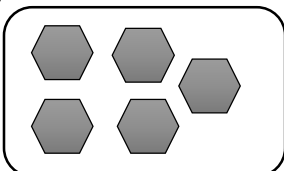
۴- مانند نمونه با شابلون از چپ به راست شکل بکش.




۵- الگو را ادامه بده.



۶- شکل های هر دودسته روی هم چند تا می شود. با چوب خط نشان بده.




۷- جدول های شگفت انگیز را کامل کن.




۳	۱	۲		۹	۵	۴	۷	۶
۵	۶	۹	۱		۷	۳	۸	۲
۴	۸	۷	۲	۶		۵	۱	۹
۹	۵	۱	۷	۳	۶		۴	۸
۷	۲	۸	۵	۱	۴	۶		۳
۶	۳	۴	۹	۸	۲	۱	۵	
	۴	۵	۶	۷	۹	۸	۳	۱
۱		۶	۳	۵	۸	۹	۲	۴
۸	۹		۴	۲	۱	۷	۶	۵

۲	۵	۱		۳	۴
۳	۴		۲	۵	۱
۱	۲	۵		۶	۳
۴	۶		۵	۱	۲
۵	۱	۴		۲	۶
۶	۳		۱	۴	۵



۸- از علامت مناسب استفاده کن . کمتر ، بیشتر یا مساوی . >=<


<input type="text"/>	<input type="text"/>	<input type="text"/>	<input type="text"/>
<input type="text"/>	<input type="text"/>	<input type="text"/>	<input type="text"/>



۹- از ۰ تا ۸ را در داخل خانه ها از چپ به راست بنویس .

۰	۱							
---	---	--	--	--	--	--	--	--

۱۰- چند تا بودند . چند تا رفتند . چند تا ماندند؟ (جاهای خالی را کامل کن.)



<input type="text"/>	<input type="text"/>	<input type="text"/>