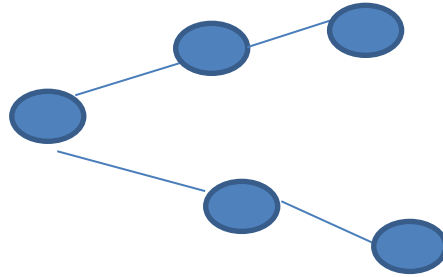
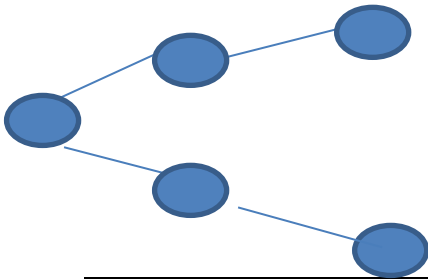


۵- تمام عددهای ۳ رقمی که رقم صدگان آن ۲ و ۸ و رقم دهگان آن ۰ و ۸ و رقم یکان آن ۴ باشد را بنویسید.



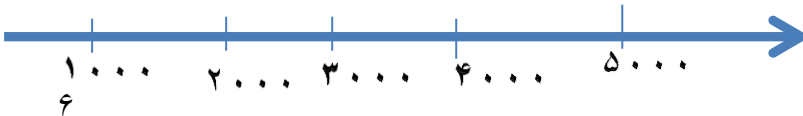
۶- عددها را روی محور نشان دهید.



۲ واحد کامل و $\frac{3}{4}$

$\frac{1}{4}$ واحد مانده به عدد ۳

عدد ۲۲۰۰ و ۴۸۰۰



۷- امیر $\frac{4}{8}$ پول خود را و رضا $\frac{2}{6}$ پول خود را صدقه دادند. با کشیدن شکل نشان دهید کدام یک از آنها پول بیشتری صدقه دادند.

۸- شکل های زیر را دو نوع دسته بندی کنید و برای آنها دو ضرب بنویسید.



.....x.....

.....x.....

.....x.....

.....x.....

بسمه تعالی

تاریخ آزمون: ۲۰/۱۰/۴۰۲
مدت آزمون: ۴۵ دقیقه

نام:

نام خانوادگی:

اداره آموزش و پرورش آذرشهر
دبستان غیر دولتی فدک نور
سوالات آزمون: ریاضی پایه: سوم

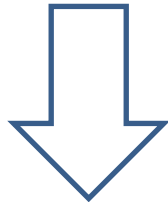

۱۰- جاهای خالی را پر کنید.

$$6 \times 5 = (4 \times 5) + (\dots \times 5) = \dots + \dots = \dots$$

$$5 \times 9 = (5 \times \dots) + (5 \times \dots) \dots + \dots = \dots$$

..

$$(6 + 4) + (4 \times 7) = \dots + \dots = \dots$$



۱۱- خط تقارن شکل های زیر را بکشید.

۱۲- جدول ضرب را کامل کنید.

x	۳	۷	۸
۵			
۶			
۹			

بسمه تعالی

تاریخ آزمون: ۲۰/۱۰/۴۰
مدت آزمون: ۴۵ دقیقه

نام:

نام خانوادگی:

اداره آموزش و پرورش آذرشهر
دبستان غیر دولتی فدک نور
سوالات آزمون: ریاضی پایه: سوم

نیاز به تلاش بیشتر	تسلط قابل قبول	تسلط خوب	تسلط خیلی خوب	ارزیابی	انتظارات آموزشی
					کار با ماشین اعداد را می داند.
					الگوهای عددی را به درستی ادامه داده است.
					در تبدیل ساعت به بعد از ظهر و برعکس مهارت دارد.
					واحد های اندازه گیری طول، کیلومتر و متر را می شناسد.
					واحد های جرم، گیلو گرم و گرم را می شناسد.
					قادر به تشخیص ارزش مکانی اعداد است.
					اعداد را به درستی روی محور نشان می دهد.
					توانایی نوشتن کسر از روی شکل را دارد.
					کسرها را از شکل مقایسه می کند.
					از روی شکل ها می تواند دو نوع ضرب با دسته بندی بنویسد.
					تقارن شکل ها را درست می کشد.
					جدول ضرب را درست و کامل نوشته است.
					توانایی حل پرانتز های توریع پذیری ضرب و حاصل پرانتزها را دارد.

نظر معلم:

۱- جاهای خالی را کامل کنید.

الف- ۴ هزار تایی، ۶ یکی، ۹ ده تایی، و ۰ صدتایی می شود: 40900

ب- با 1000 می توانیم زاویه ی راست را تشخیص دهیم.

پ- ۴۵۰۰ ریال همان 45000 تومان است.

ج- ۶۷۰۰ گرم یعنی 67000 کیلوگرم و 670000 گرم

د- ۱۲۸ سانتی متر یعنی 128000 متر و 128 سانتی متر

۲- الگوهای زیر را ادامه دهید.

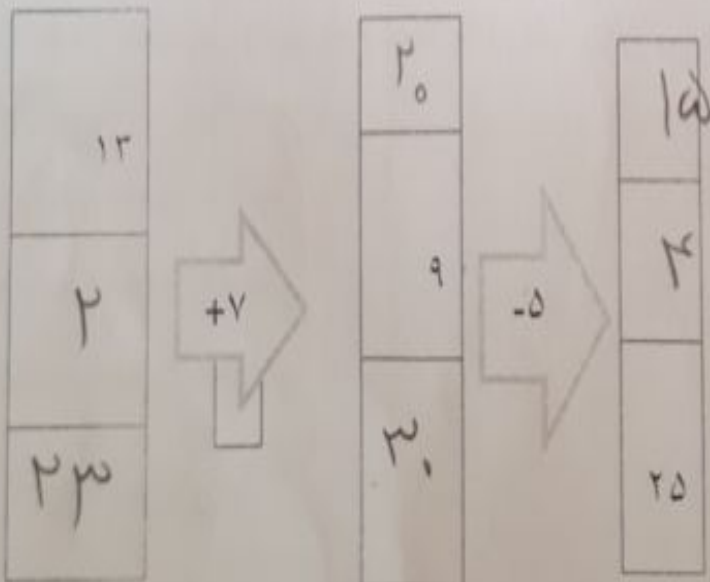
$4000, 1200, 1400, 2000, 2200, 2400, \dots$
 $1100, 2100, 3100, 4100, 5100, 6100, 7100, \dots$
 $5000, 5200, 5400, 5600, 5800, 6000, \dots$
 -200

۳- جدول زیر را کامل کنید.

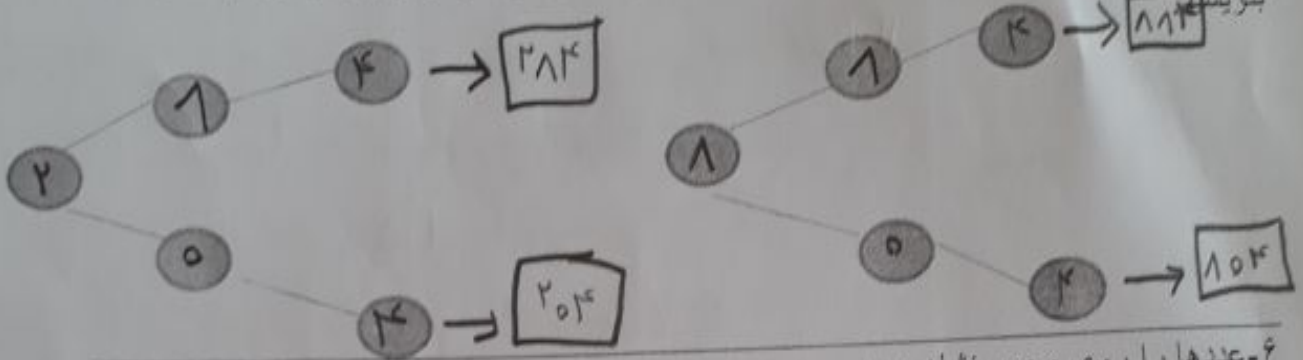
زمان	۱۵	۱۳:۳۰	بیست و ربع	۲۳:۳۰
بعد از ظهر	۳	۲:۳۰	۲:۱۵	۱۱:۳۰



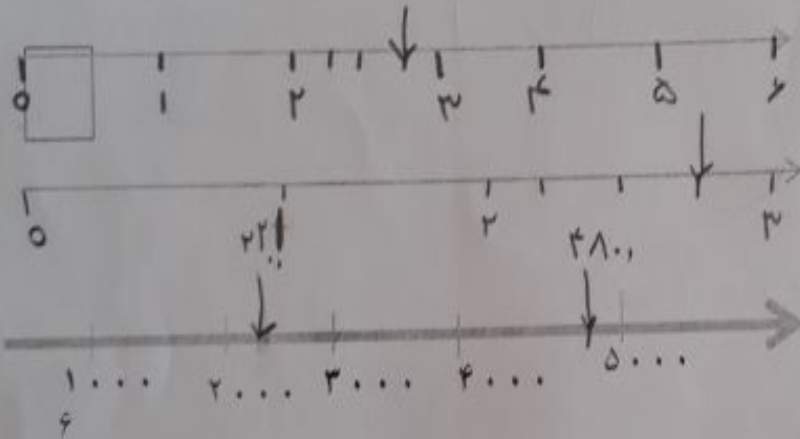
۴- در جاهای خالی عدد مناسب بنویسید.



۵- تمام عددهای ۳ رقمی که رقم صدگان آن ۸ و ۲ و رقم دهگان آن ۸ و ۰ و رقم یکان آن ۴ باشد را بنویسید.



۶- عددها را روی محور نشان دهید.

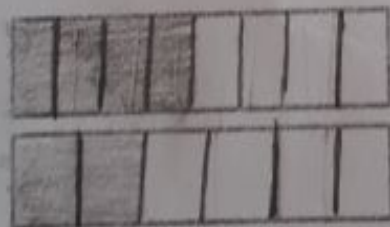


۲ واحد کامل و $\frac{3}{4}$

$\frac{1}{4}$ واحد مانده به عدد ۳


عدد ۲۲۰۰ و ۴۸۰۰

۷- امیر $\frac{4}{8}$ پول خود را و رضا $\frac{2}{6}$ پول خود را صدقه دادند. با کشیدن شکل نشان دهید کدام یک از آنها پول بیشتری صدقه دادند.




امیر $\frac{2}{6}$ رضا $\frac{4}{8}$

۸- شکل های زیر را دو نوع دسته بندی کنید و برای آنها دو ضرب بنویسید.



۳ × ۵ = ۱۵

۵ × ۳ = ۱۵



۳ × ۴ = ۱۲

۴ × ۳ = ۱۲

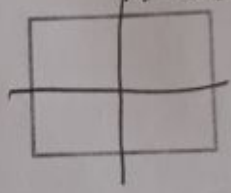
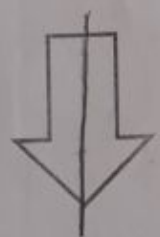
۱۰- جاهای خالی را پر کنید.

$$4 \times 5 = (4 \times 5) + (\dots \times 5) = \dots + \dots = \dots$$

$$5 \times 9 = (5 \times \dots) + (5 \times \dots) + \dots = \dots$$

$$\dots (6+4) + (4 \times 7) = \dots + \dots = \dots$$

۱۱- خط تقارن شکل های زیر را بکشید.




۱۲- جدول ضرب را کامل کنید.

x	۳	۷	۸
۵	۱۵	۳۵	۴۰
۶	۱۸	۴۲	۴۸
۹	۲۷	۶۳	۷۲



اپلیکیشن درسی همیار

برنامه رایگان درسی همیار



تمام پایه ها

جواب کتاب ، تدریس و نمونه سوال



همیشه رایگان

برنامه همیار کاملا رایگان میباشد