

۱) جاهای خالی را کامل کنید .

- مثلثی که ضلع آن برابرند، متساوی‌الضلاع نام دارد .
- اندازه‌ی دور هر شکل را می‌نامند.
- سانتی‌متر یعنی ۱ متر و ۳۷ سانتی متر .
- ۶۴۰۰ گرم یعنی کیلوگرم و گرم
- خط‌های هیچ وقت یکدیگر را قطع نمی‌کنند .

۲) الگوهای زیر را ادامه دهید .



..... - - - - - ۶۰ - ۵۴

۳) عدد ۸۰۶۳ را در جدول ارزش مکانی قرار بده و به سوالات پاسخ بده .

• عدد را با حروف بنویس .

• رقم صفر در چه مرتبه‌ای قرار دارد؟

• بزرگترین عدد در چه مرتبه‌ای قرار دارد؟

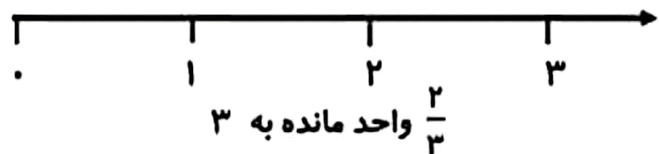
یکان	دهگان	صدگان	هزارگان

۴) برنامه‌ی تلویزیونی عموپورنگ ساعت ۱۹:۳۰ پخش می‌شود. زمان پخش این برنامه ساعت چند بعد از ظهر

است؟

۵) کسر $\frac{4}{6}$ را روی شکل نشان بدهید .

۵) کسر زیر را روی محور نشان بدهید .



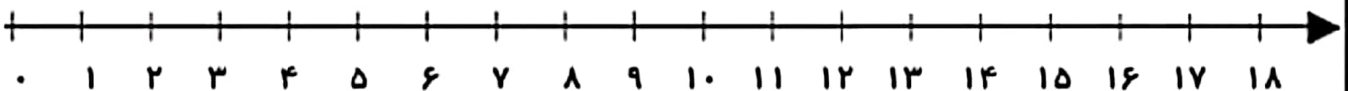
۶) برای شکلهای روبه‌رو عملیات‌های خواسته شده را بنویسید .



..... + + + + + =

..... × =

..... ÷ =



۷) مقایسه کنید و علامت ($< = >$) بگذارید.

$$\frac{2}{5} \bigcirc \frac{4}{5}$$



$$2000 + 2500 \bigcirc 1500 + 3000$$



$$\frac{1}{6} \bigcirc \frac{1}{4}$$

$$4 \times 1 \bigcirc 8 \times 0$$



$$\text{نیم} \bigcirc \text{نصف}$$



$$24 \div 4 \bigcirc 15 \div 3$$



$$30 \times 30 \bigcirc 60 \times 10$$

۸) باغچه ای به شکل مستطیل به طول ۸ و عرض ۴ داریم. می‌خواهیم دورتادور آن را نرده بکشیم. برای دور تا دور آن به چند متر نرده نیاز داریم؟ مساحت این باغچه را به دست آورید.

۹) حاصل جمع و تفریق زیر را به دست آورید.

$$\begin{array}{r} 4652 \\ + 3247 \\ \hline \end{array}$$

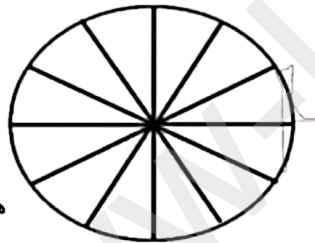


$$\begin{array}{r} 5802 \\ - 2369 \\ \hline \end{array}$$




۱۰) در باغ مشهدی یحیی درختان زیر کاشته شده است. با توجه به جدول نمودارها را کامل کنید.

درخت	زردآلو	سیب	گیلاس	هلو	گلابی
تعداد	۱۵	۲۰	۵	۱۰	۱۰



هر قسمت = ۵ درخت

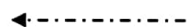


۱۱) حاصل ضرب و تقسیم زیر را به دست بیاورید.

$$\begin{array}{r} 236 \\ \times 4 \\ \hline \end{array}$$

$$\begin{array}{r} 32 \overline{) 6} \\ \hline \end{array}$$

۱۲) نام شکل‌های زیر را بنویسید.



خداقوت دانش‌آموز کوشا و پرتلاشم

بازخورد آموزگار:

پاسخ فعالیت ریاضی - پایه سوم - دبستان شهید سیدجامی - اردیبهشت ۱۴۰۴
 ۱- هدر ۳ ضلع - محیط - ۱۳۷ سانتی متر - ۶ کیلوگرم و ۴۰۰ گرم - موازی

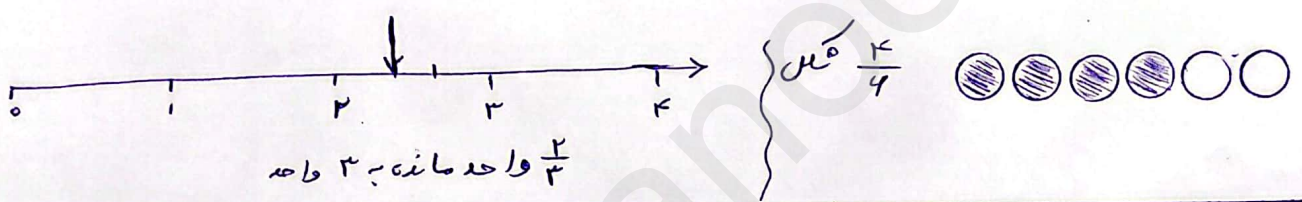
۲- $\triangle \triangle \triangle \triangle \triangle \triangle \triangle \triangle$ شکل (۱۴)

۸۰ - ۷۶ - ۷۲ - ۶۸ - ۶۴ - ۶۰ - ۵۴

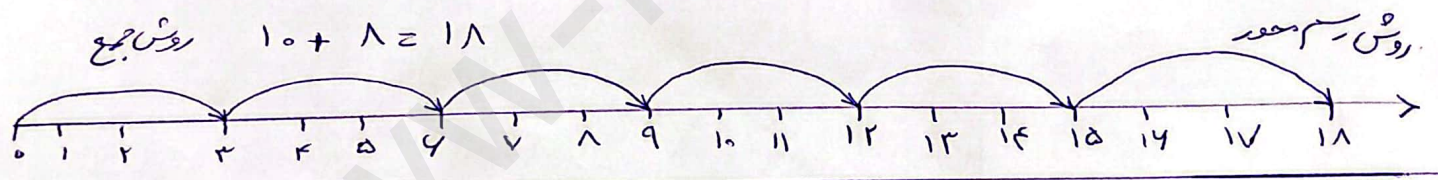
یکان	دهان	صدگان	هزاران
۳	۴	۰	۸

۳- هشت هزار و شصت و سه
 - رقم صفر ← مرتبه صدگان
 - ۸ بزرگترین رقم ← یکان هزار

۴- بعد از ظهور $۷ : ۳۰ \xrightarrow{\text{۱۲ ساعت}} ۱۹ : ۳۰$



۶- $۲ + ۳ + ۳ + ۳ + ۳ + ۳ = ۱۸$ روش جمع
 $۶ \times ۳ = ۱۸$ روش ضرب
 $۱۰ + ۸ = ۱۸$ روش جمع



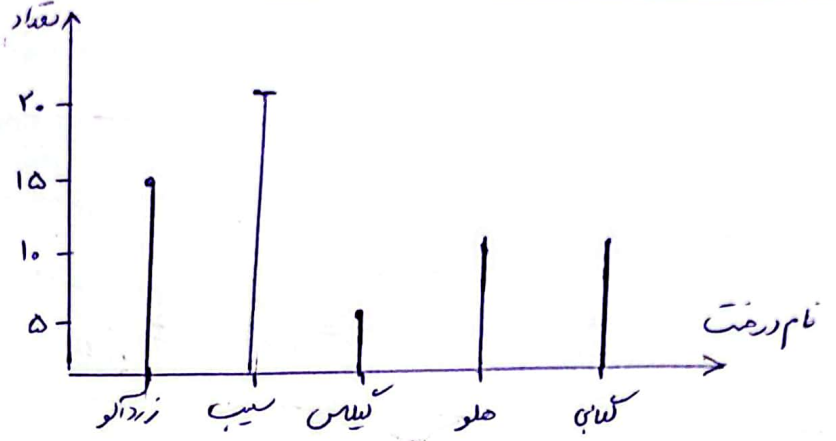
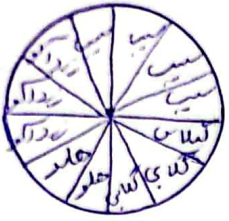
۷- $\frac{۲}{۵} < \frac{۴}{۵}$ $۲۰۰۰ + ۲۵۰۰ = ۱۵۰۰ + ۳۰۰۰$ $\frac{۱}{۹} < \frac{۱}{۴}$
 $۴ \times ۱ > ۸ \times ۰$ $\frac{۲}{۳} > \frac{۱}{۴}$ $۲۴ \div ۴ > ۱۵ \div ۳$ $۲۰ \times ۳۰ > ۴۰ \times ۱۰$

۸- محیط مستطیل = (طول + عرض) $\times ۲$ $۸ + ۴ = ۱۲ \times ۲ = ۲۴$ متر
 مساحت مستطیل = طول \times عرض $۸ \times ۴ = ۳۲$ متر مربع

فرآیندی
 اضافه کردن جازها

$$\begin{array}{r} ۴۹۵۲ \\ + ۳۲۴۷ \\ \hline ۷۴۵۲ \\ + ۲۴۴۷ \\ \hline ۷۸۹۹ \end{array}$$

۹-
$$\begin{array}{r} ۷۹۱۲ \\ ۵۸۰۴ \\ - ۲۴۹۹ \\ \hline ۳۴۱۳ \end{array}$$
 کشید



$$\begin{array}{r} \times 234 \\ 4 \\ \hline 944 \end{array}$$

$$\begin{array}{r} 42 \quad | \quad 4 \\ -30 \quad | \quad 5 \\ \hline 02 \end{array}$$

-11

۱۲ - مسس صلعی - مکتب مربع - استوانه - مخروط