

نام آموزگار: پایه سوم

نام و نام خانوادگی دانش آموز: نام درسی: ریاضی

۱- الگوی زیر را ادامه دهید.

۳۲۰-۳۳۰-۳۳۵-۳۳۵-۳۳۵-۳۴۰-۳۴۵-۳۴۵

۱۲-۱۴-۱۷-۲۱-۲۴-۳۲-۳۹-۴۷

۲- جدول داده های زیر را کامل کنید.

زمان	۱۸:۴۷	۲۰	۱۵:۱۴	۱۶
بعد از ظهر	<u>۴:۴۷</u>	<u>۸</u>	<u>۳:۱۴</u>	<u>۴</u>

ریال	۴۰۰۰	<u>۵۷۰۰</u>	۳۰۸۰
تومان	<u>۴۰۰</u>	<u>۵۷۰</u>	<u>۳۰۸</u>

۳- جاهای خالی را پر کنید.

۲۰۳۹ گرم ۲ کیلوگرم و ۳۹ گرم است.

۵ کیلومتر و ۸۰ متر ۵۰۸۰ متر است.


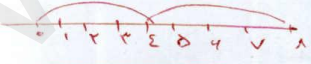
۴۸ میلی متر ۴ سانتی متر و ۸ میلی متر است.

۳ بسته ی ده تایی و ۱۴ صدتایی و ۶ هزارتایی می شود. سه هزار و صد و شصت و شش (۳۰۱۴۰۶) می شود.

۴- امروز چهارشنبه سومین روز خرداد است تا آخر این ماه چهارشنبه ها چه تاریخ هایی هستند؟

۳۱ ، ۲۴ ، ۱۷ ، ۱۰ ، ۳

۵- حاصل ضرب های زیر را به روش های خواسته شده به دست آورید.



الف) با رسم محور $2 \times 4 = 8$

ب) با رسم مستطیل $5 \times 3 = 15$

ج) با رسم شکل $6 \times 7 = 42$


نام آموزگار:

پایه سوم:

نام و نام خانوادگی دانش آموز:

نام درس: ریاضی.....

۶- برای شکل مقابل دوشرب و دو تقسیم بنویسید.



$3 \times 6 = 18$
 $6 \times 3 = 18$
 $18 \div 3 = 6$
 $18 \div 6 = 3$

۷- الف) کسر داده شده را روی محور نشان دهید.



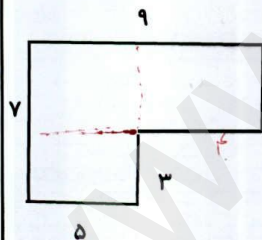
$\frac{2}{3}$ واحد بعد از عدد ۳

ب) برای عبارت زیر شکل بکشید.



$\frac{3}{5}$ واحد و ۴ واحد

۸- محیط و مساحت شکل زیر را حساب کنید.



$9 + 4 + 3 + 3 + 5 + 7 = 31$ محیط
 $9 \times 4 = 36$
 $3 \times 5 = 15$
 $36 + 15 = 51$ مساحت

۹- حاصل عبارات زیر را به دست آورید.

$8 \times 4 = (3 \times 4) + (\dots \times \dots)$

$8 \times 100 \times 3 = 2400$

نام آموزگار:

پایه: سوم

نام و نام خانوادگی دانش آموز:

نام درس: ریاضی.....

۱۰- حاصل جمع و تفریق های زیر را به روش فرایندی به دست آورید.

$$\begin{array}{r} 2589 \\ + 4310 \\ \hline 4589 \\ + 410 \\ \hline 4999 \end{array}$$

$$\begin{array}{r} 4328 \\ - 1026 \\ \hline 3328 \\ - 24 \\ \hline 3304 \\ - 4 \\ \hline 3300 \end{array}$$

۱۱- حاصل ضرب زیر را به روش فرایندی بنویسید.

$$\begin{array}{r} 489 \\ \times 3 \\ \hline 1467 \end{array}$$

۱۲- حاصل تقسیم های زیر را حساب کنید.

$$\begin{array}{r} 44 \overline{) 8} \\ \underline{40} \\ 40 \\ \underline{40} \\ 0 \end{array}$$

$$\begin{array}{r} 9 \overline{) 5} \\ \underline{9} \\ 5 \end{array}$$

۱۳- مقایسه کنید. > < =

۲۳۰ تومان ۱۲۰۰ ریال

۲ کیلومتر و ۴۰ متر ۲۰۰۰ متر


۲۴۵۹ ۱۴۶۰

$\frac{4}{6}$ $\frac{3}{6}$

نام آموزگار: پایه سوم
 نام و نام خانوادگی دانش آموز: نام درس: ریاضی.....

۱۴- تعداد کتاب های یک کتاب خانه در جدول زیر آمده است با توجه به داده های جدول، نمودار ستونی آن را رسم کنید.

نوع	علمی	آموزشی	تخیلی	مذهبی
تعداد	۴۰	۳۰	۲۰	۱۰



۱۵- آموزگار به هر دانش آموزی که ۸۵۳ امتیاز بگیرد، جایزه می دهد. مهران ماه گذشته ۲۳۸ امتیاز و این ماه ۴۷۹ امتیاز گرفته است. او باید چند امتیاز دیگر به دست آورد تا جایزه را از آموزگار بگیرد؟

$$\begin{array}{r} 238 \\ + 479 \\ \hline 717 \end{array}$$

$$\begin{array}{r} 853 \\ - 717 \\ \hline 136 \end{array}$$

باید ۱۳۶ امتیاز بگیرد

۱۶- حاصل تفریق زیر را با رسم شکل به دست آورید.

$$\begin{array}{r} 4325 \\ - 1264 \\ \hline 3061 \end{array}$$

