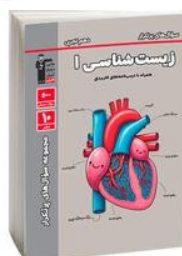




Kanoon.ir

شما با دانلود این نمونه سوال، **کد تخفیف خرید کتاب از سایت کانون بوک** دریافت می کنید.

برای دریافت کد جایزه خود، عدد **33** را به **سر شماره 90008451** ارسال کنید.



تمرین بیشتر نمونه سوالات امتحانی با کتاب های پرتکرار

همین حالا جایزه خود را دریافت کنید.



kanoonBook.ir

نام و نام خانوادگی:

به نام خدا

ارزشیابی پایانی

کلاس سوم

دبستان امام جواد

۱۴۰۴/۳/۵

کرمان

۱- با توجه به شکل جاهای خالی را پر کنید.

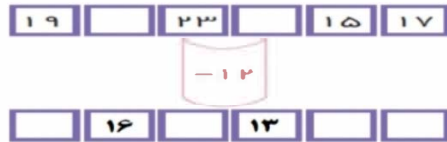


یکان	دهگان	صدگان	هزارگان

عدد ..... حروف.....

۲- تمام عددهای سه رقمی که صدگان آن (۳ و ۲) و دهگان آن (۸ و ۶) و یکان آن (۷ و ۵) باشد را با روش درختی بنویس

۳- جاهای خالی را با عدد مناسب پر کنید.



قبل از ظهر



بعد از ظهر



۴- الگوهای عددی زیر را ادامه بدهید.

.....-۷۳۰۰-۸۳۰۰-۹۳۰۰


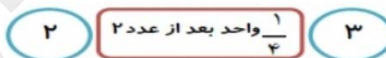

.....-۱۲۰۰-۱۲۵۰-۱۳۰۰

.....-۲۰۰-۲۵۰۰-۳۰۰۰

.....-۱-۳-۶-۱۰



۵- عددهای داخل مستطیل به کدام عدد نزدیکتر است رنگ کن



۶- اتوبوسی ساعت ۶ صبح از تهران به سمت اصفهان حرکت کرد و بعد از ۹ ساعت به اصفهان رسید. اتوبوس ساعت چند بعد از ظهر به اصفهان رسیده است؟

۷- یک دلار کشور شکرستان ۱۴۰۰ تومان شده است. ۴ دلار این کشور چند تومان است.

۸- مقایسه کنید

۶ کیلوگرم و ۲۵۰ گرم  ۶۲۵۰ گرم

۵×۴  ۶×۳

۳ هزار متر  ۴ کیلومتر

۲۰۰۰ ریال  ۵۰۰ تومان

۸  ۵

۳ واحد و ۲ واحد  ۴ واحد و ۲ واحد

۹- در جای خالی کلمه یا عدد مناسب بنویسید.

۳ کیلومتر و ۵۰۰ متر یعنی ..... متر

برای کشیدن دایره از وسیله ای به نام ..... استفاده می کنیم.

هر عددی در یک ضرب شود جواب ..... میشود.

در ضرب وقتی عددها را جا به جا کنیم حاصل ..... نمیکند.

ساعت ۱۹:۳۰ همان ..... در بعد از ظهر است.

شعاع دایره ..... قطر آن است.


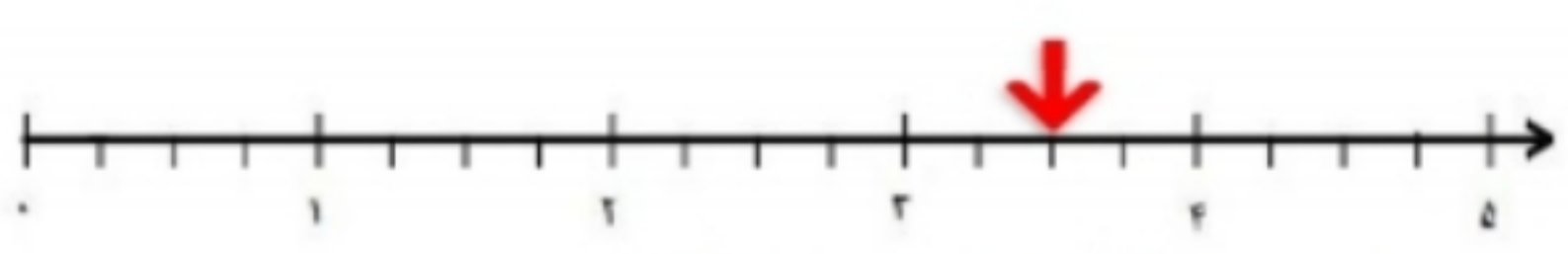

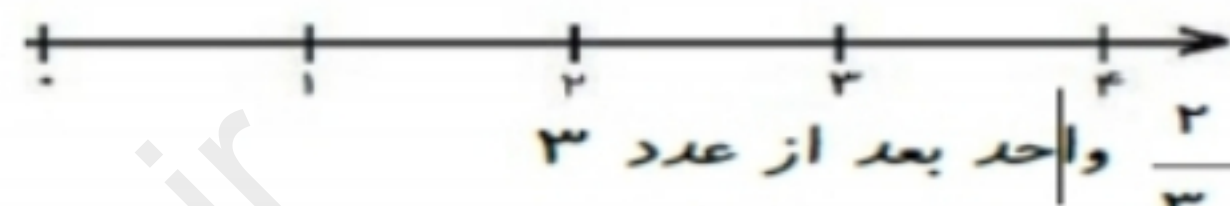
اگر صورت دو کسری مساوی باشند آن وقت کسری بزرگتر است که مخرج آن ..... باشد.

ربع هر چیز از ثلث آن ..... است.

دایره شعاع دارد.

واحد اندازه گیری جرم ..... و ..... است.

۱۰- برای جاهای خالی را با عدد مناسب و شکلها را با رنگ کردن کامل کن

 <p>..... واحد و ..... واحد واحد</p>	 <p>..... واحد و ..... واحد واحد</p>
 <p>۲ واحد و <math>\frac{۴}{۶}</math> واحد واحد</p>	 <p><math>\frac{۲}{۳}</math> واحد بعد از عدد ۳</p>

۱۱- عبارتهای زیر را کامل کنید.

$$(۶ \times ۳) - (۲ \times ۳) = \dots - \dots = \dots$$

$$(۳ \times ۵) + (۴ \times ۵) = \dots + \dots = \dots$$

$$(۸ \times ۷) = (\dots \times \dots) + (\dots \times \dots) = \dots$$

۱۲- ضربهای زیر را به روش خواسته شده بنویسید.

شکل:	جمع:	..... دسته ی ..... تایی ..... میشود.....	$۲ \times ۶ =$
محور:	الگو:	..... دسته ی ..... تایی ..... میشود.....	$۳ \times ۴ =$

۱۳- شکل روپرو کدام عبارت را نشان می دهد.



(ب)  $\frac{۴}{۶} > \frac{۲}{۳}$

الف)  $\frac{۴}{۶} = \frac{۲}{۳}$



(ج) هر سه مورد

الف)  $\frac{۲}{۳} > \frac{۴}{۶}$

باز خورد معلم:

نیاز به تلاش بیشتر

قابل قبول

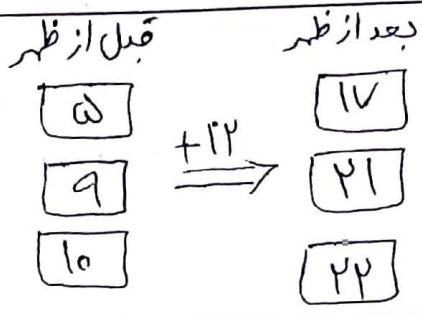
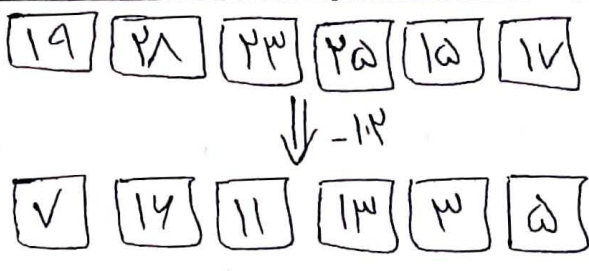
خوب

خیلی خوب

۰۷۰۰۱۳۱۲۲۲

بیان	دهگان	صدگان	هزارگان
------	-------	-------	---------

۲۶۷, ۲۶۵, ۲۸۷, ۲۸۵, ۳۴۵, ۳۴۷, ۳۸۵ و ۳۸۷



۳۰۰۰ - ۵۰۰۰ - ۶۰۰۰ - ۷۰۰۰ - ۸۰۰۰ - ۹۰۰۰  
 ۱۰۰۰ - ۱۱۰۰ - ۱۲۰۰ - ۱۳۰۰ - ۱۴۰۰ - ۱۵۰۰  
 ۲۰۰ - ۲۵۰ - ۳۰۰ - ۳۵۰ - ۴۰۰ - ۴۵۰  
 ۱ - ۳ - ۶ - ۱۰ - ۱۵ - ۲۱ - ۲۸

۲۰۰۰ / ۲ / ۹۰۰۰	۵
۳ بعد از ظهر	۶

$9 + 9 = 18$

$1400 \times 4 = 5600$

۲۵۰ گرم  $\equiv$  ۶۲۵ گرم

۲۰۰ تومان  $\triangleright$  ۵۰۰ تومان

۲۰  $\triangleright$  ۱۸

۸  $\triangleright$  ۵


۳ کیلومتر  $\triangleright$  ۴ کیلومتر

۷ واحد  $\triangleright$  ۵ واحد  
 $\frac{3 \times 2}{4} = 4$

- \*  $\frac{1}{13}$
- \* بنهایت / بیشتر
- \* گرم و کیلوگرم
- \* ۳۵۰۰ متر
- \* بزرگ
- \* خودش
- \* تغییر
- \* ۷:۳۰
- \* نصف
- \* کوچک تر

۲ واحد و ۳ واحد

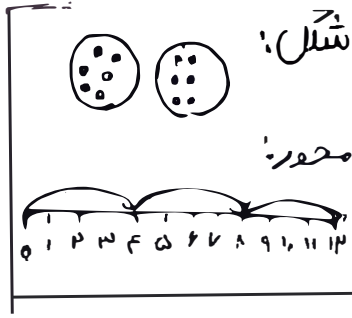
۱۰ | ۳ واحد و ۲ واحد



$$18 - 6 = 12$$

$$15 + 20 = 35$$

$$(4 \times 7) + (4 \times 7) = 56$$



جمع:  $6 + 6 = 12$  ۲ دسته ۶ تایی میسود ۱۲  $2 \times 6 = 12$

الگو  $4, 8, 12, \dots$  ۳ دسته ۴ تایی میسود ۱۲  $3 \times 4 = 12$

۱۳ | الف)  $\frac{4}{6} = \frac{2}{3}$