

مدت امتحان : تاریخ

آب و هوای سالم

۱- چه کارهای هوا را سالم و پاکیزه نگه می دارد. ( دو مورد بنویسید)

..... ☆ ..... ☆

۲- ما از آب چه استفاده هایی می کنیم. ( دو مورد بنویسید)

..... ☆ .....

۳- بنویسید کدام جمله ( درست ، نادرست ) است.

الف) اگر آب رودخانه ای خشک شود ، جانداران اطراف آن رودخانه می میرند.

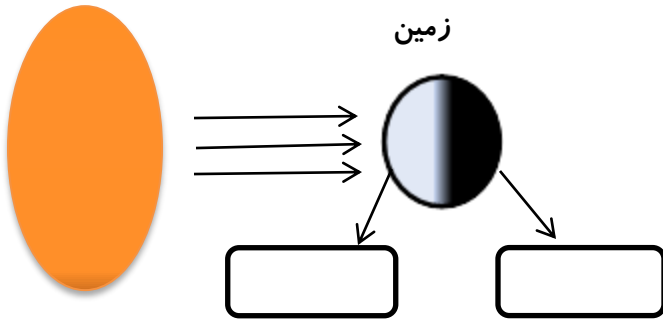
ب) اگر درختان را آتش بزنیم یا قطع کنیم، کمک می کنیم تا هم جانوران زنده بمانند وهم هوا پاکیزه بماند.

زندگی ما و گردش زمین ۱-۲

۱- با چرخش زمین به دور خود چه چیزی به وجود می آید.

۲- زمین هر چند ساعت ، یک بار به دور خود می چرخد.

خورشید



۳- با توجه به شکل جاهای خالی را بنویسید.

۴- به نظر شما روزها گرم تر است یا شب ها. چرا؟

۵- بنویسید کدام جمله ( درست ، نادرست ) است.

الف) همه ی جانداران و گیاهان به نور خورشید نیاز دارند.

ب) خورشید با گرما و نور خود زمین را گرم نگه می دارد.

ج) زمانی که نور خورشید به محلی به طور راست می تابد ، آن محل سرد تر می شود.

۶- در زمستان هم مانند تابستان خورشید در آسمان دیده می شود پس چرا زمین سرد است.

- ۷- برای اندازه گیری گرمی و سردی از چه وسیله ای استفاده می کنیم.
- ۸- معمولا برای پیدا کردن جهت وزش باد از چه وسیله ای استفاده می کنند.
- ۹- باد های شدید را چه می گویند؟
- ۱۰- باد بیابان را بیشتر تغییر می دهد یا جنگل را؟

پیام رمز را پیدا کن ۱-۲

۱- رانندگان از کجا می فهمند که آمبولانس نزدیک می شود.

۲- ما از کجا می دانیم که در آسمان رعد و برق می زند.

۳- بنویسید که صدا چگونه تولید می شود.

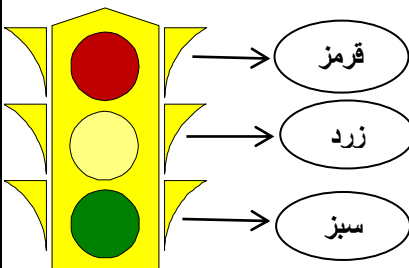
۴- از کجا می دانید که تلفن زنگ می زند یا کسی در خانه ی شما را می زند.

۵- در گذشته با استفاده از چه چیزی ساعت آفتابی درست می کردند.

۶- چشمه ی نور چیست . دو وسیله نام ببرید که چشمه ی نور هستند.

۷- شما از کجا می فهمید که پشت چراغ عابر پیاده باید بایستید .

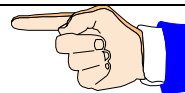
۸- از کجا می فهمید که چراغ سبز به شما پیام می دهد که از خیابان عبور کنید.



۹- بنویسید کدام جمله ( درست ، نادرست ) است .

- الف ( نگاه کردن به خورشید به طور مستقیم به چشم های ما آسیب می رساند .  )
- ب ( با قرار دادن شیشه در مقابل نور خورشید می توانیم سایه درست کنیم .  )
- ج ( عابر نایینا با شنیدن صدای آمبولانس می فهمد که آمبولانس نزدیک می شود .  )

۳



باز خورد معلم